

Занятие ФЭМП



Тема: Соотнесение количества предметов с цифрой. Сравнение реальных предметов с геометрическими телами. Слева, справа.
Цель: Учить соотносить цифру и количество предметов;

закрепить умение видеть в контурах окружающих предметов геометрические тела. Развить умение обозначать словами положение предмета относительно себя, мелкую моторику.
В.: Воспитывать любовь к героям мультиков.





Здравствуйте ребята!

К вам за помощью пришли Гена крокодил и Чебурашка!

Старуха Шапокляк придумала для них задание, но не могут Гена и Чебурашка справиться без вас. Давайте поможем!

Вы согласны?

Молодцы!






Кому что собирать?

Чебурашка и крокодил Гена должны собрать яблоки и груши. Они не знают, что собирать. Чтобы им помочь надо посчитать яблоки и груши на деревьях, и показать персонажа, у кого в руках табличка с цифрой, которая соответствует количеству яблок и груш.



*Кто собирал груши?
Кто собирал яблоки?*





Алма - яблоко



Алмұрт - груша

Молодцы справились!

В этом задании нужно назвать геометрические тела.
Определить какие предметы похожи на шар, а какие на куб.



Мяч - Дюп



Текше - Куб

Подскажи чебурашке что стоит слева, а что справа.



Молодцы!

Физминутка!



Отгадать загадки.


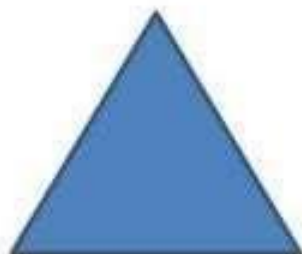
Он похож на яйцо
или на твоё лицо.

Вот такая есть окружность
очень странная наружность:
круг приплюснутым стал
Получился вдруг.... (Овал)



Три вершины,
три угла,
три сторонки-
кто же я? (треугольник)

Посмотри внимательно! Назови правильно
геометрические тела и фигуры.



На забор взлетел петух,
Повстречал ещё там двух.
Сколько стало петухов?



Спасибо ребята , вы нам очень помогли!

До свиданья!

